

**PROVES D'ACCÉS A LA UNIVERSITAT**

**PRUEBAS DE ACCESO A LA UNIVERSIDAD**

<b>CONVOCATÒRIA: JUNY 2015</b>	<b>CONVOCATORIA: JUNIO 2015</b>
<b>GEOGRAFIA</b>	<b>GEOGRAFÍA</b>

**BAREM DE L'EXAMEN:**

**Pregunta 1<sup>a</sup>-2 punts; pregunta 2<sup>a</sup>-2,5 punts; pregunta 3<sup>a</sup>-3 punts; pregunta 4<sup>a</sup>-2,5 punts**

**BAREMO DEL EXAMEN:**

*Pregunta 1<sup>a</sup>-2 puntos; pregunta 2<sup>a</sup>-2,5 puntos; pregunta 3<sup>a</sup>-3 puntos; pregunta 4<sup>a</sup>-2,5 puntos*

**EJERCICIO 1**

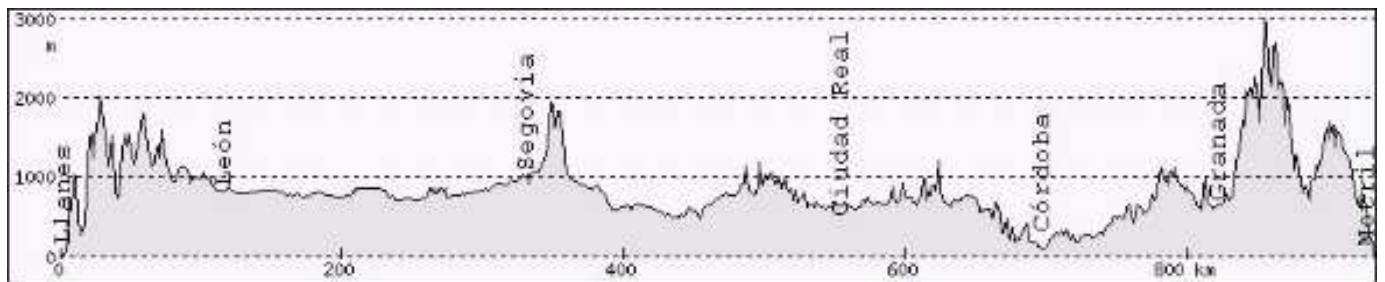
1. Localice en el mapa adjunto los siguientes ríos y unidades del relieve: Segre, Sil, Turia, Duero, Genil, Submeseta Sur, Cordillera Penibética, Cordillera Subbética, Macizo Galaico, Montes de León.
2. Con la ayuda del mapa anexo y del documento 1, señale las unidades en que se dividen las Cordilleras Béticas y las diferencias entre la Submeseta Norte y la Submeseta Sur.
3. Describa las unidades del relieve y sus características que pueda deducir a partir del perfil topográfico del documento 1.
4. Con ayuda del mapa anexo y del documento 1, señale los rasgos básicos del relieve peninsular.

**EXERCICI 1**

1. Localitzeu en el mapa adjunt els següents rius i unitats del relleu: Segre, Sil, Túria, Duero, Genil, subaltilplà sud, serralada Penibètica, serralades Subbètiques, massís Galaic, Montes de León.
2. Amb l'ajuda del mapa annex i del document 1, assenyalen les unitats en què es divideixen les serralades Bètiques i les diferències entre el subaltilplà nord i el subaltilplà sud.
3. Descriviu les unitats del relleu i les seues característiques que puguen deduir a partir del perfil topogràfic del document 1.
4. Amb ajuda del mapa annex i del document 1, assenyalen els trets bàsics del relleu peninsular.

## DOCUMENT 1 / DOCUMENTO 1

Perfil topogràfic entre les localitats de Llanes (Astúries) i Motril (Granada).  
*Perfil topográfico entre las localidades de Llanes (Asturias) y Motril (Granada).*



Font/Fuente: <http://www.heywhatsthat.com/profiler.html>

**PROVES D'ACCÉS A LA UNIVERSITAT**

**PRUEBAS DE ACCESO A LA UNIVERSIDAD**

<b>CONVOCATÒRIA: JUNY 2015</b>	<b>CONVOCATORIA: JUNIO 2015</b>
<b>GEOGRAFIA</b>	<b>GEOGRAFÍA</b>

**BAREM DE L'EXAMEN:**

**Pregunta 1<sup>a</sup>-2,5 punts; pregunta 2<sup>a</sup>-2,5 punts; pregunta 3<sup>a</sup>-2,5 punts; pregunta 4<sup>a</sup>-2,5 punts**

**BAREMO DEL EXAMEN:**

*Pregunta 1<sup>a</sup>-2,5 puntos; pregunta 2<sup>a</sup>-2,5 puntos; pregunta 3<sup>a</sup>-2,5 puntos; pregunta 4<sup>a</sup>-2,5 puntos*

**EJERCICIO 2**

1. A partir del documento 1, elabore una gràfica lineal sobre la evolució diferencial del paro en Espanya, entre los hombres y las mujeres. Comente el gráfico resultante.
2. Describa las diferencias territoriales del paro en Espanya a partir del documento 2 y aporte algunas razones que pudieran explicarlas.
3. Explique cómo podemos relacionar la tasa de paro con los siguientes aspectos demográficos: a) migraciones; b) tasas de natalidad; c) envejecimiento de la población.
4. A partir de los datos anteriores y de sus conocimientos en la materia, explique problemas estructurales básicos de la economía española.

**EXERCICI 2**

1. A partir del document 1, elaboreu un gràfic lineal sobre l'evolució diferencial de la desocupació a Espanya, entre els homes i les dones. Comenteu el gràfic resultant.
2. Descriuiu les diferències territorials de la desocupació a Espanya a partir del document 2 i aporteu algunes raons que puguen explicar-les.
3. Expliqueu com podem relacionar la taxa de desocupació amb els aspectes demogràfics següents: a) migracions; b) taxes de natalitat; c) envelliment de la població.
4. A partir de les dades anteriors i dels vostres coneixements en la matèria, expliqueu problemes estructurals bàsics de l'economia espanyola.

## DOCUMENT 1 / DOCUMENTO 1

Espanya: evolució de la taxa de desocupació per sexe, 2005-2013 (percentatge sobre el total d'actius).

*España: evolución de la tasa de paro por sexo, 2005-2013 (porcentaje sobre el total de activos).*

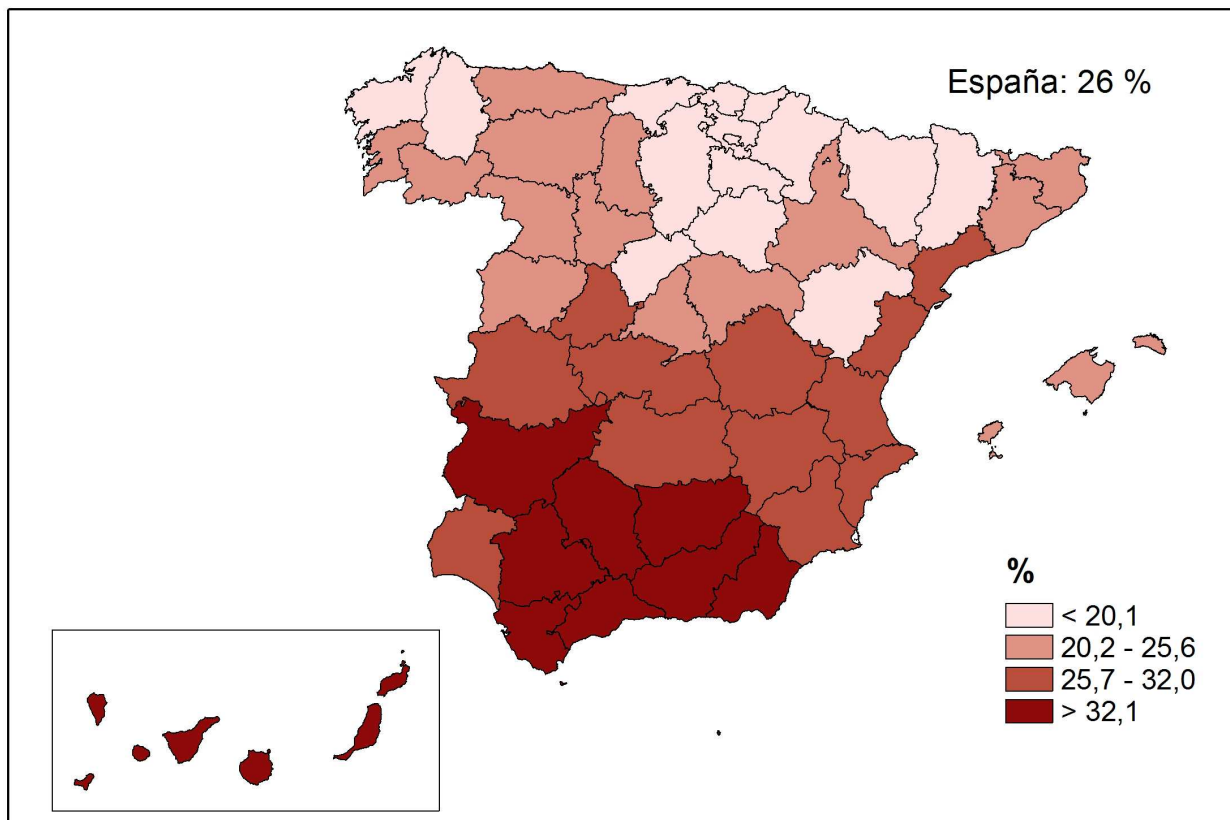
	2005	2006	2007	2008	2009	2010	2011	2012	2013
Varones	6,7	6,1	6,93	13,0	18,6	19,8	22,3	25,4	25,0
Mujeres	11,5	11,2	10,8	14,8	18,8	20,5	22,9	26,2	26,5

Font/Fuente: Encuesta de la población activa. Dades del quart trimestre de cada any / Encuesta de la población activa. Datos del 4º trimestre de cada año.

## DOCUMENT 2 / DOCUMENTO 2

Espanya, 2013: taxa de desocupació de la població de 16 a 64 anys. Distribució provincial.

*España, 2013: tasa de paro de la población de 16 a 64 años. Distribución provincial*



Font/Fuente: Encuesta de la población activa. Dades del quart trimestre de cada any / Encuesta de la población activa. Datos del 4º trimestre de cada año.

**PROVES D'ACCÉS A LA UNIVERSITAT**

**PRUEBAS DE ACCESO A LA UNIVERSIDAD**

**CONVOCATÒRIA: JUNY 2015**

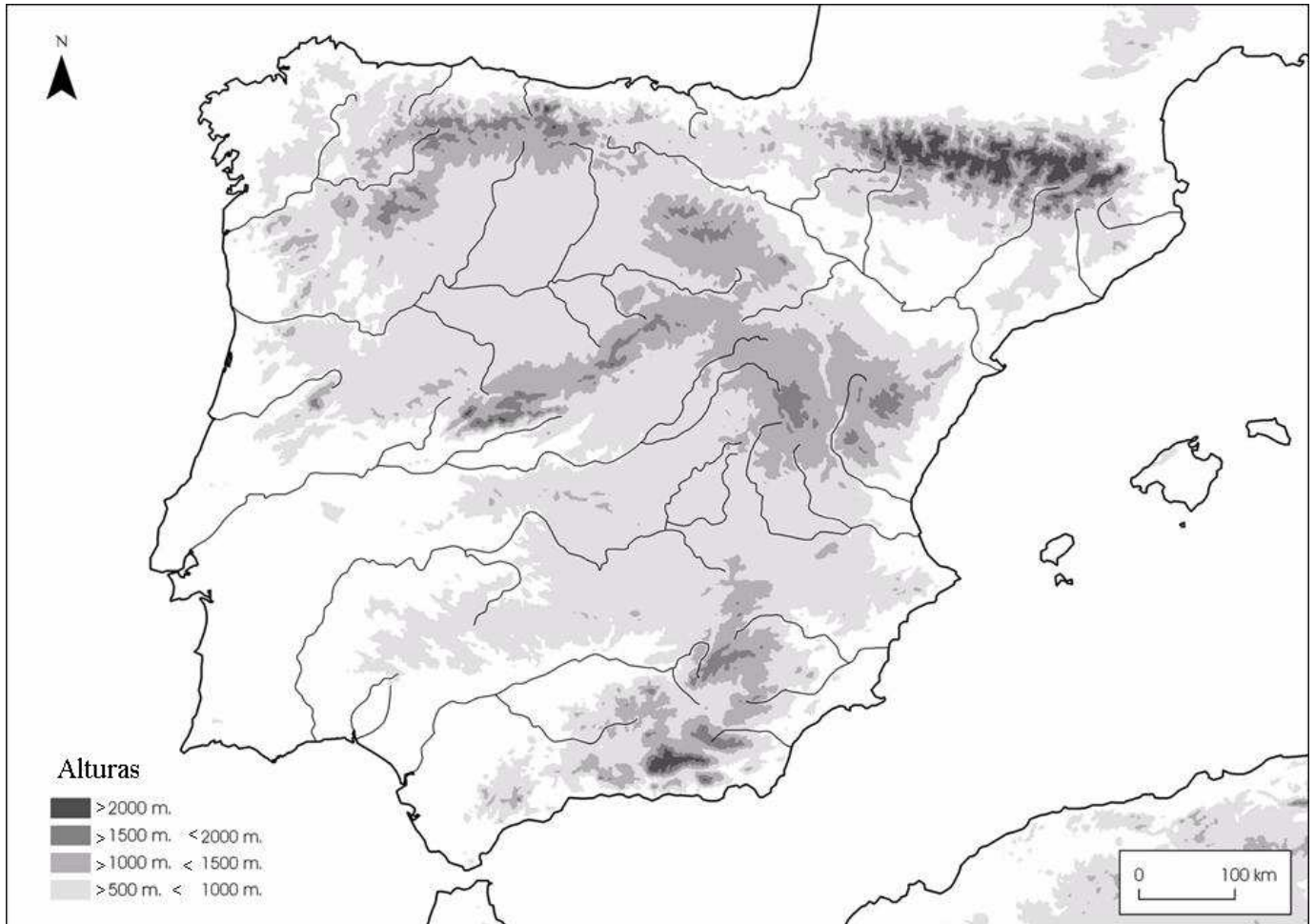
**CONVOCATORIA: JUNIO 2015**

**GEOGRAFIA**

**GEOGRAFÍA**

Etiqueta de l'estudiant / Etiqueta del estudiante

**MAPA ANNEX / MAPA ANEXO**



**PROVES D'ACCÉS A LA UNIVERSITAT**

**PRUEBAS DE ACCESO A LA UNIVERSIDAD**

<b>CONVOCATÒRIA: JUNY 2015</b>	<b>CONVOCATORIA: JUNIO 2015</b>
<b>GEOGRAFIA</b>	<b>GEOGRAFÍA</b>

Etiqueta de l'estudiant / Etiqueta del estudiante

**PAPER ANNEX/ PAPEL ANEXO**

